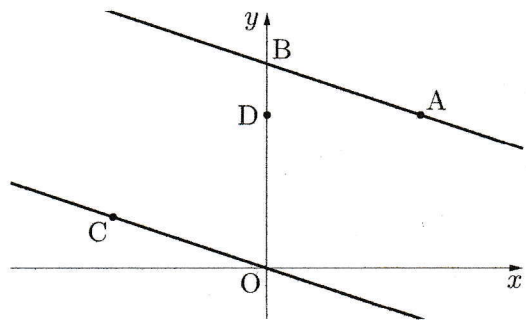


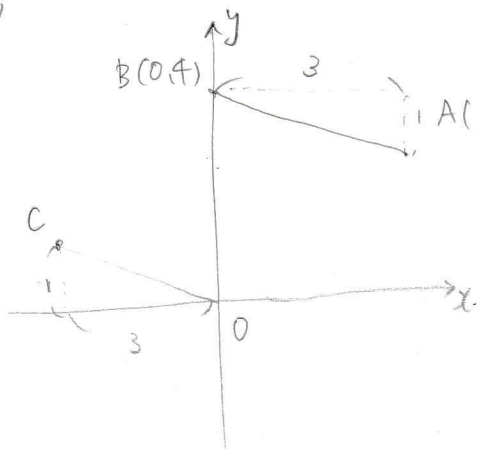
右の図のように、関数 $y = -\frac{1}{3}x + 4$ のグラフ上に点 $A(3, 3)$ があり、このグラフと y 軸との交点を B とします。また、関数 $y = -\frac{1}{3}x$ のグラフ上を $x < 0$ の範囲で動く点 C 、 y 軸上に点 $D(0, 3)$ があります。



- (1) 四角形 $ABCO$ が平行四辺形となる時、点 C の座標を求めなさい。
- (2) 点 D を通り、 $\triangle ABO$ の面積を 2 等分する直線の式を求めなさい。

[広島県]

(1)



四角形 $ABCO$ が平行四辺形

$BA \parallel CO$ 、かつ $BA = CO$

傾きも等しく長さも等しいので

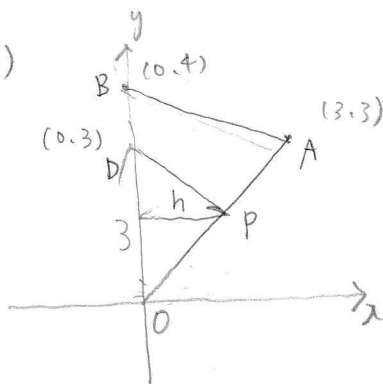
B から A へは 右に 3 下に 1 進む

C から O へも 右に 3 下に 1 進む

O は $(0, 0)$ であるから C は $(-3, 1)$ とわかる

$C(-3, 1)$

(2)



$\triangle ABO$ の面積は

$$4 \times 3 \times \frac{1}{2} = 6$$

その半分にするにはよいので、直線 AO 上に点 P とすると

$$\triangle DPO = 3 \text{ とする } \rightarrow \text{と考える}$$

このとき P の x 座標を h とすると $\triangle DPO$ の面積は

$$DO = 3 \text{ より } 3 \times h \times \frac{1}{2} = \frac{3}{2}h$$

$$\text{これを } 3 \text{ とおくと } \frac{3}{2}h = 3 \quad h = 2 \dots \text{と}$$

直線 AO の式は $y = x$ であるから $P(2, 2)$

よって求める直線の式は $D(0, 3) P(2, 2)$ を

通す。これを求めると $y = -\frac{1}{2}x + 3$