

直線 $x + y - 1 = 0 \dots \textcircled{1}$ が円 $x^2 + y^2 = 4 \dots \textcircled{2}$ によって切り取られる部分の長さ、線分の中点の座標を求めなさい。

わさく

$y = -x + 1$ とし $x^2 + y^2 = 4$ に代入すると

$$x^2 + (-x + 1)^2 = 4$$

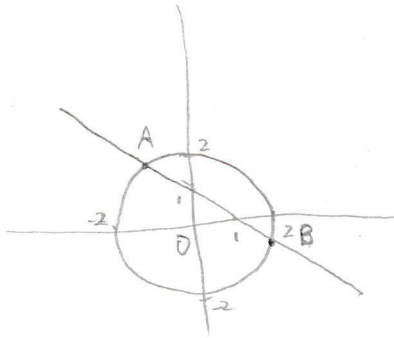
$$x^2 + x^2 - 2x + 1 = 4$$

$$2x^2 - 2x - 3 = 0$$

$$x = \frac{1 \pm \sqrt{1+6}}{2}$$

$$x = \frac{1 - \sqrt{7}}{2} \text{ とき } y = \frac{1 + \sqrt{7}}{2} \quad A \left(\frac{1 - \sqrt{7}}{2}, \frac{1 + \sqrt{7}}{2} \right)$$

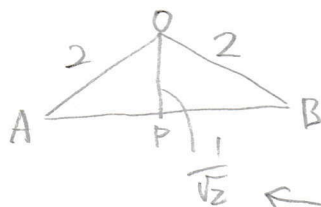
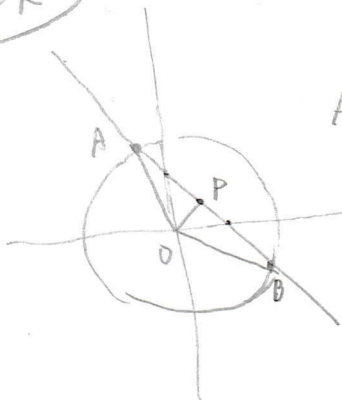
$$x = \frac{1 + \sqrt{7}}{2} \text{ とき } y = \frac{1 - \sqrt{7}}{2} \quad B \left(\frac{1 + \sqrt{7}}{2}, \frac{1 - \sqrt{7}}{2} \right)$$



$$AB = \sqrt{\left(\frac{1 - \sqrt{7}}{2} - \frac{1 + \sqrt{7}}{2}\right)^2 + \left(\frac{1 + \sqrt{7}}{2} - \frac{1 - \sqrt{7}}{2}\right)^2} = \sqrt{7 + 7} = \sqrt{14}$$

中点は $\left(\frac{\frac{1 - \sqrt{7}}{2} + \frac{1 + \sqrt{7}}{2}}{2}, \frac{\frac{1 + \sqrt{7}}{2} + \frac{1 - \sqrt{7}}{2}}{2} \right) = \left(\frac{1}{2}, \frac{1}{2} \right)$

ちと工夫



Oから直線 $x + y - 1 = 0$ への距離は

$$\frac{|1 - 1|}{\sqrt{1^2 + 1^2}} = \frac{1}{\sqrt{2}}$$

$$\therefore AB = 2AP = 2 \cdot \sqrt{4 - \left(\frac{1}{\sqrt{2}}\right)^2} = 2 \cdot \sqrt{\frac{7}{2}} = \sqrt{14}$$

線分の中点はOからの対称性より $(0, 1), (1, 0)$ の中点に一致する
 $\left(\frac{1}{2}, \frac{1}{2} \right)$