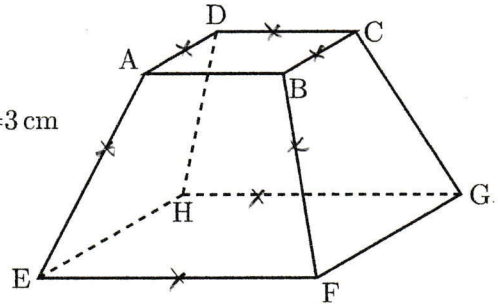


右の図のように、立体 ABCD-EFGH において、面 ABCD と面 EFGH は、1 辺の長さがそれぞれ 2 cm, 4 cm の正方形であり、2 つの面は平行である。また、それ以外の 4 つの面は、すべて台形で AE=BF=CG=DH=3 cm である。

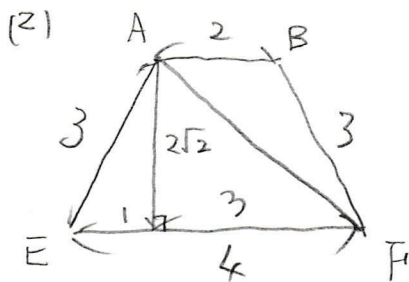


このとき、次の (1)~(3) に答えなさい。

- (1) 辺 AB とねじれの位置にある辺をすべて書きなさい。
- (2) 線分 AF の長さを求めなさい。なお、途中の計算も書くこと。
- (3) 立体 ABCD-EFGH の体積を求めなさい。なお、途中の計算も書くこと。

[石川県]

(1) $\parallel DH, \parallel CG, \parallel EH, \parallel FG$



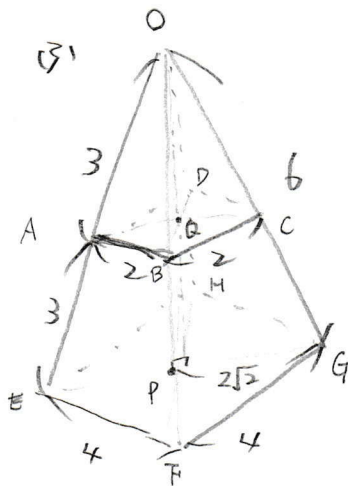
左図より

$$AF = \sqrt{(2\sqrt{2})^2 + 3^2}$$

$$= \sqrt{8+9}$$

$$= \sqrt{17}$$

$\sqrt{17}$ cm



(完全) 正四角錐 O-EFGH から正四角錐 O-ABCD を削ぐ
 中点連結定理より $OE = OF = OG = OH = 6$ cm
 正四角錐 O-EFGH の高さ $EO = OP$ とすると
 $OP = \sqrt{6^2 - (2\sqrt{2})^2}$
 $= 2\sqrt{7}$
 正四角錐 O-ABCD の高さ OQ は OP の $\frac{1}{2}$ であるから $OQ = \sqrt{7}$ cm
 これより求める体積は
 $16 \times 2\sqrt{7} \times \frac{1}{3} - 4 \times \sqrt{7} \times \frac{1}{3} = \frac{32\sqrt{7}}{3} - \frac{4\sqrt{7}}{3} = \frac{28\sqrt{7}}{3}$