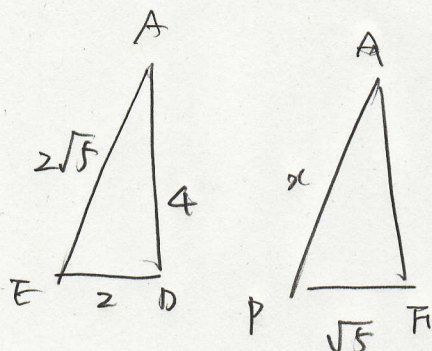
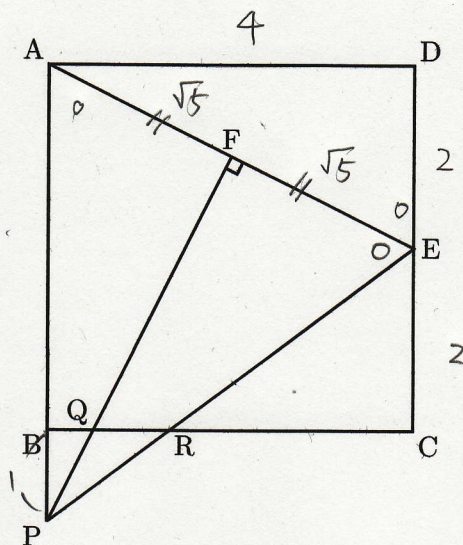




一辺が4cmの正方形の辺DCの中点をEとし、線分AEに対し、線分AEの中点Fを通る垂線と辺ABの延長線との交点をPとする。線分PF, PEと辺BCとの交点をそれぞれQ, Rとすると、線分BP, QRの長さを求めなさい。



$$2 : \sqrt{5} = 2\sqrt{5} : x$$

$$2x = 10$$

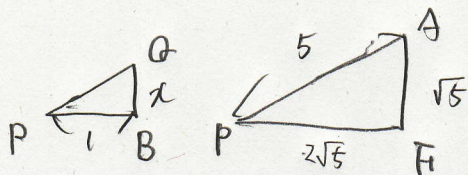
$$x = 5 \sim AP$$

$$BP = AP - AB = 5 - 4 = 1$$

$$BP = 1 \text{ cm}$$

$$BR = RC = \frac{1}{2} \times 2 \text{ cm}$$

$$BR = 4 \times \frac{1}{3} = \frac{4}{3}$$



$$1 : 2\sqrt{5} = x : \sqrt{5}$$

$$2\sqrt{5}x = \sqrt{5}$$

$$x = \frac{1}{2} \sim BQ$$

$$\begin{aligned} QR &= BR - BQ = \frac{4}{3} - \frac{1}{2} \\ &= \frac{5}{6} \end{aligned}$$

$$QR = \frac{5}{6} \text{ cm}$$

