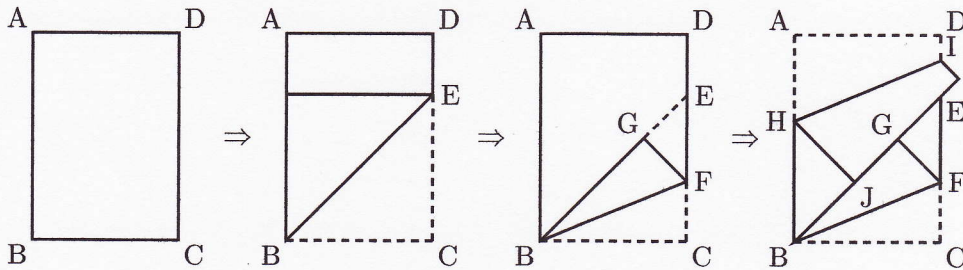




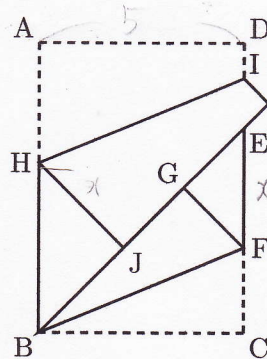
下の図1のような、縦と横の長さの比が $\sqrt{2}:1$ の長方形 ABCD を、次の①～③のように折ります。

- ① 図2のように、辺 BC が辺 BA と重なるように折ったとき、折り目の線を BE とし、もとに戻します。
- ② 図3のように、線分 CF 上の点 F を通る線分 BF を折り目として点 C が線分 BE 上に重なるように折り、点 C の移った点を G とします。
- ③ 図4のように、辺 AB 上の点 H、線分 DE 上の点 I を通る線分 HI を折り目押しして、辺 AD が線分 BE に重なるように折り、点 A の移った点を J とします。



このとき、次の各問いに答えなさい。

- (1) $\triangle BJH \sim \triangle EGF$ が相似であることを証明しなさい。
- (2) $AD=5\text{cm}$ のとき、線分 EF の長さを求めなさい。
- (3) $\triangle BJH$ の面積が 2cm^2 のとき、長方形 ABCD の面積を求めなさい。



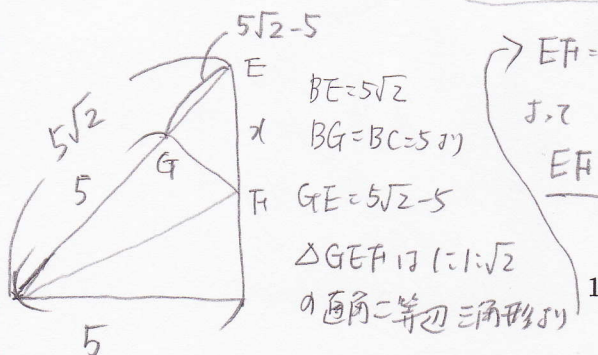
(1) $\triangle BJH$ と $\triangle EGF$ で
 仮定より
 $\angle BJH = \angle EGF = 90^\circ \dots \textcircled{1}$
 $AB \parallel DC$ より、錯角が等しいので
 $\angle JBH = \angle GEF \dots \textcircled{2}$
 $\textcircled{1}, \textcircled{2}$ より、2組の角がそれぞれ等しいので
 $\triangle BJH \sim \triangle EGF$

(2) $\triangle BHJ$ も直角二等辺三角形

$BH = HJ = x$ とおくと
 $\frac{x^2}{2} = 2 \quad (x > 0) \quad x = 2 \quad BH = 2\sqrt{2}$
 $AB = 2 + 2\sqrt{2} \quad BC : AB = 1 : \sqrt{2}$
 $BC = 2 + 2\sqrt{2} = 1 : \sqrt{2}$
 $BC = \sqrt{2} + 2$

[埼玉]

(2)



$\rightarrow EF = \sqrt{2} \times (5\sqrt{2} - 5)$
 $J. \text{ 正}$
 $EF = 10 - 5\sqrt{2} (\text{cm})$

$(\sqrt{2} + 2)(2 + 2\sqrt{2}) = 2\sqrt{2} + 4 + 4 + 4\sqrt{2}$
 $= 6\sqrt{2} + 8$
 $6\sqrt{2} + 8 (\text{cm}^2)$

