

グラフ 2

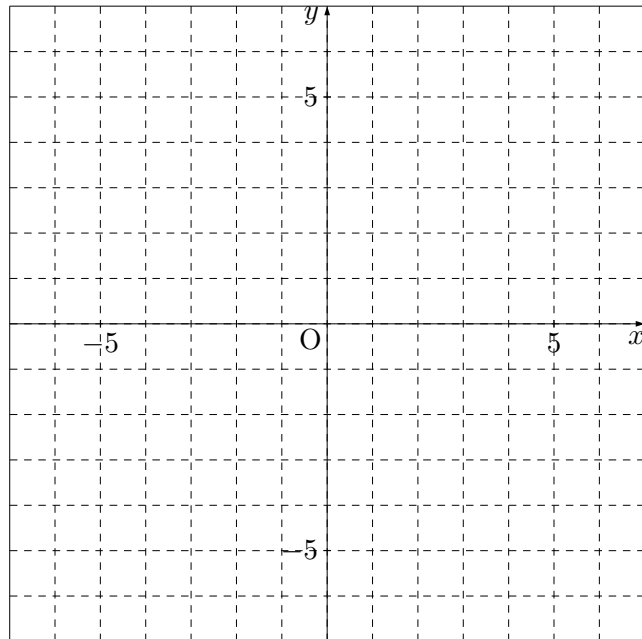
1. 次のグラフを書きなさい。

(1) $y = 2x + 3$

(2) $y = -\frac{1}{2}x - 1$

(3) $y = \frac{3}{4}x + 1$

(4) $y = -x - 3$



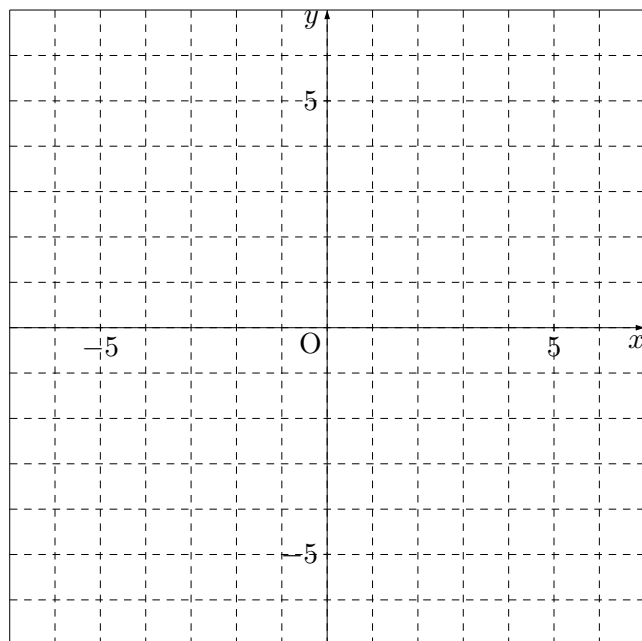
2. 次のグラフを書きなさい。

(1) $y = \frac{3}{2}x + 1$

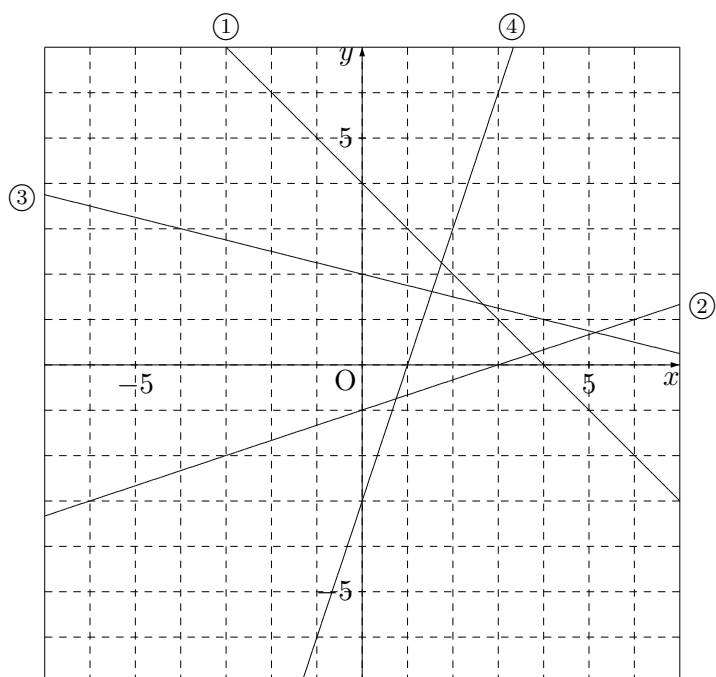
(2) $y = -\frac{1}{3}x - 1$

(3) $y = 3x + 1$

(4) $y = \frac{5}{2}x - 3$



3. 次のグラフを読み取りなさい。



4. 次のグラフを読み取りなさい。

