



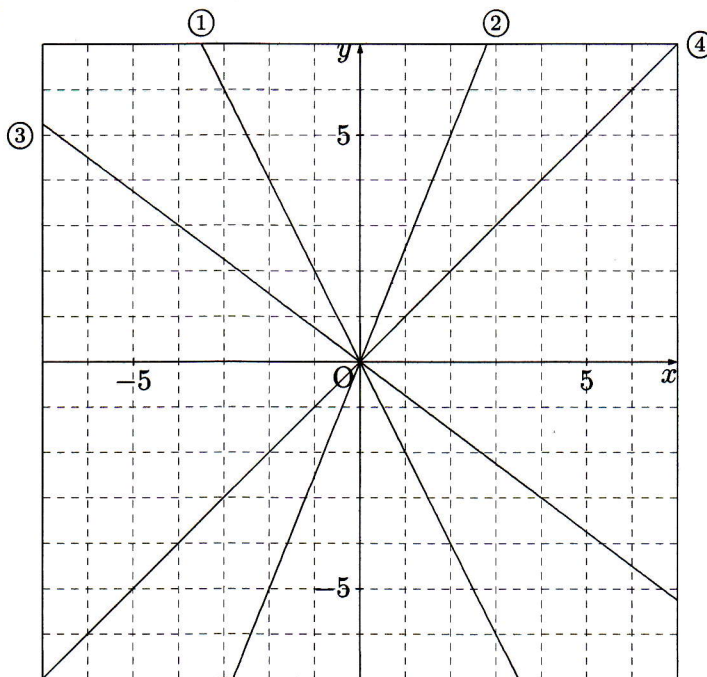
3. 次のグラフを読み取りなさい。

① $y = -2x$

② $y = \frac{5}{2}x$

③ $y = -\frac{3}{4}x$

④ $y = x$



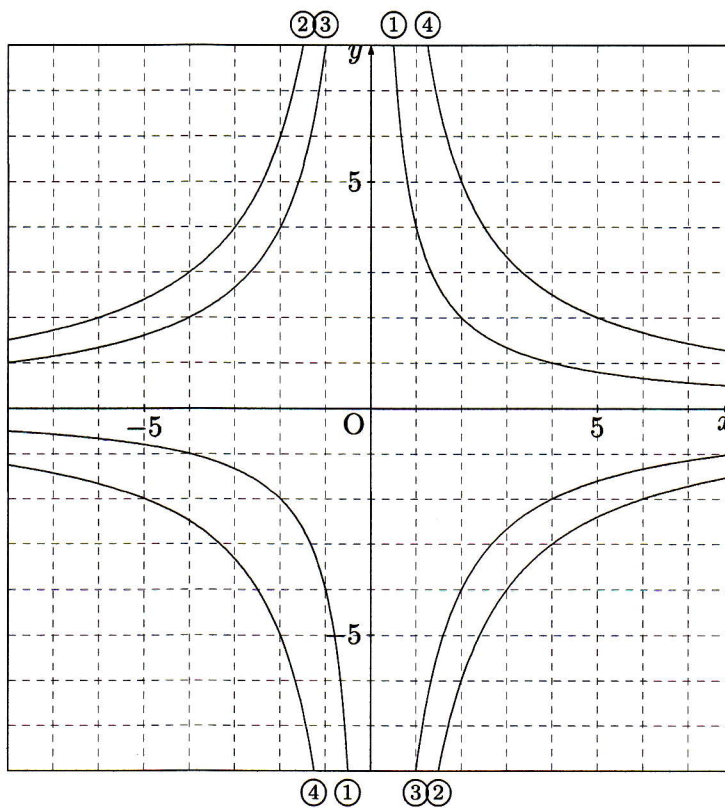
4. 次のグラフを読み取りなさい。

① $y = \frac{4}{x}$

② $y = -\frac{12}{x}$

③ $y = -\frac{8}{x}$

④ $y = \frac{10}{x}$

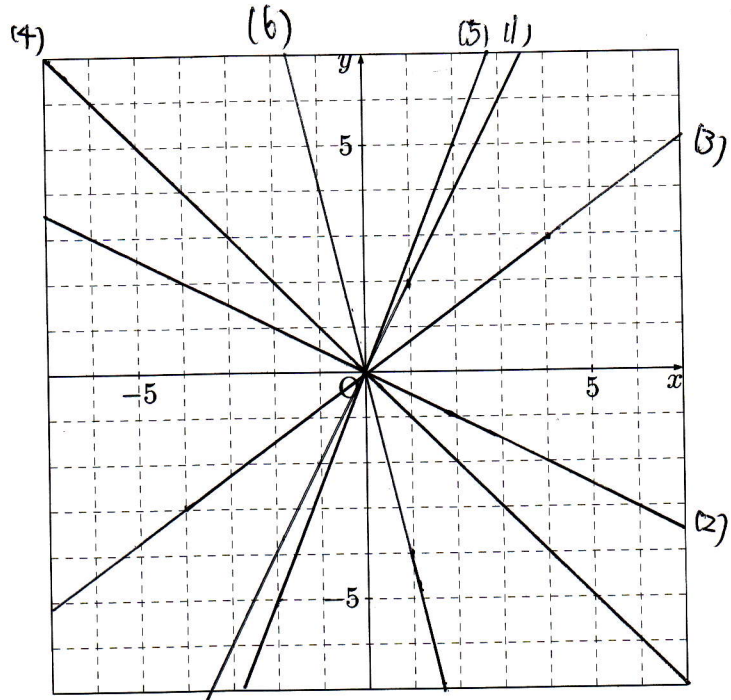




グラフ 1

1. 次のグラフを書きなさい。

- (1) $y = 2x$
- (2) $y = -\frac{1}{2}x$
- (3) $y = \frac{3}{4}x$
- (4) $y = -x$
- (5) $y = \frac{5}{2}x$
- (6) $y = -4x$



2. 次のグラフを書きなさい。

- (1) $y = \frac{6}{x}$
- (2) $y = -\frac{12}{x}$
- (3) $y = \frac{8}{x}$
- (4) $y = -\frac{24}{x}$

