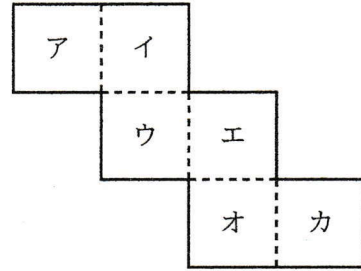
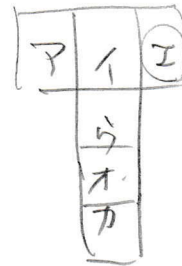


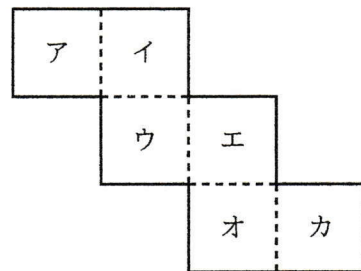
右の図は、立方体の展開図である。この展開図を組み立てて作られる立方体について、面アと平行な面をイ～カの中から選び、符号で書きなさい。



エ



右の図は、立方体の展開図である。この展開図を組み立てて作られる立方体について、面アと垂直な面をイ～カの中からすべて選び、符号で書きなさい。



イ, ウ, オ, カ

