
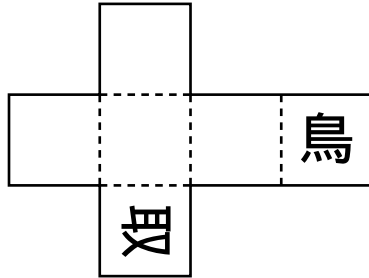


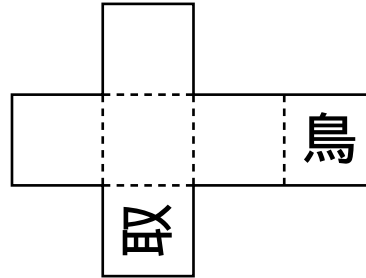
右の図のように、「鳥」、「取」という文字が書かれている立方体の展開図として正しいものを、下のア～エから1つ選び、記号で答えなさい。



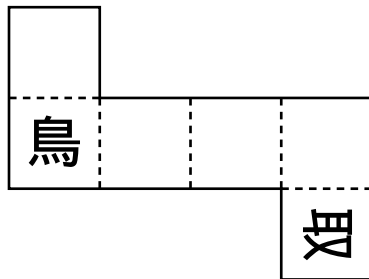
ア



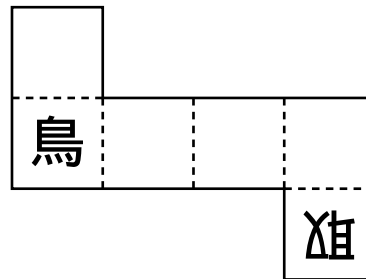
イ



ウ



エ



〔鳥取県〕