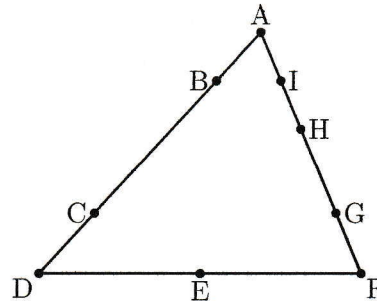


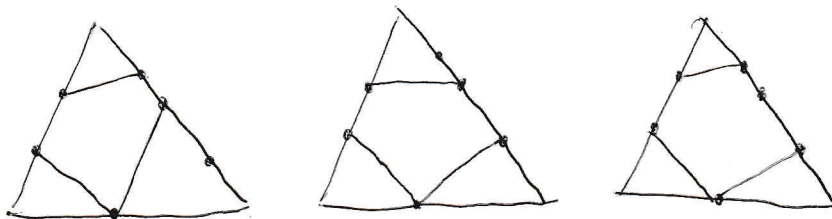
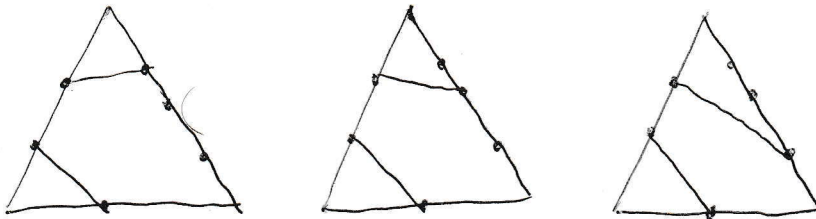
図のように三角形の頂点または辺上に9個の点があります。このうちの5個の点を頂点とする五角形を考えます。



- ① BとCが頂点となる五角形は全部で何個できますか。
- ② 五角形は全部で何個できますか。

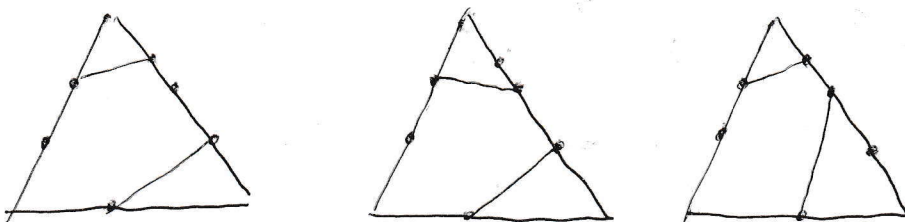
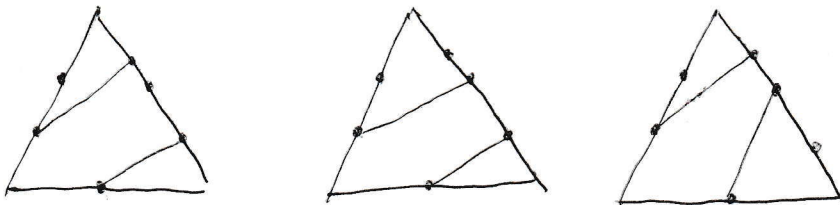
[早稲田中]

①



6個

②



①と合わせて

12個