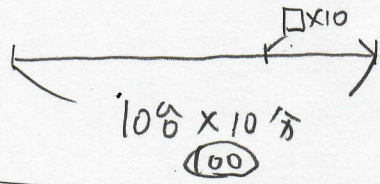
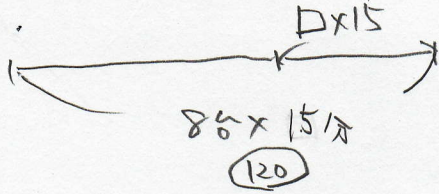




ニ>ト>3



ある池では、一定の割合で水が湧き出ています。この池の水をポンプを使って汲み出すと、8台では15分、10台では10分で水がなくなります。ポンプ14台では 分で水はなくなります。
[法政大中]

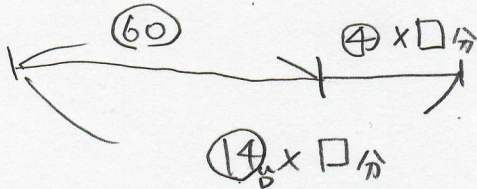


$$5 \times \square = 20$$

$$\square = 4$$

池の水は $15 \times 4 = 60$

$$120 - 60 = 60 \dots \text{池の水}$$



$$(14 - 4) \times \square \text{分} = 60$$

$$\square = 6$$

6分

