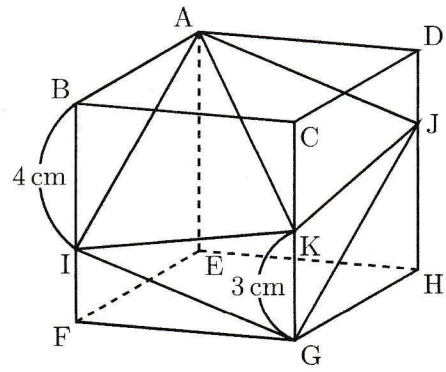


右の図は、1辺の長さが6cmの立方体です。この立方体を3点A, I, Gを通る平面で切ったとき、この平面と辺DHは点Jで交わります。四角すいK-AIGJの体積は \square cm³ です。また、3点B, D, Gを通る平面で四角すいK-AIGJを2つの立体に分けたとき、点Kを含む立体の体積は \square cm³ です。



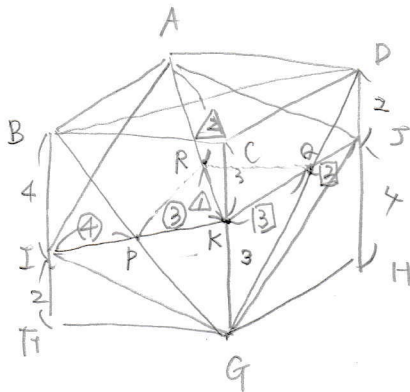
[灘中]

四角すい K-AIGJ

$$\begin{aligned}
 &= \text{三角すい } A-ICK + \text{三角すい } A-JKG \\
 &= 3 \times 6 \times \frac{1}{2} \times 6 \times \frac{1}{3} + 3 \times 6 \times \frac{1}{2} \times 6 \times \frac{1}{3} \\
 &= 18 + 18 \\
 &= 36 \quad \underline{36 \text{ cm}^3}
 \end{aligned}$$

平面AIGJで切った立体はもとの立方体の半分になり、

よって四角すいA-BIKCと四角すいA-CKJDをそれぞれで求める。

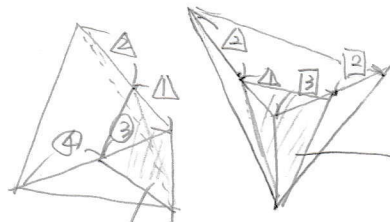
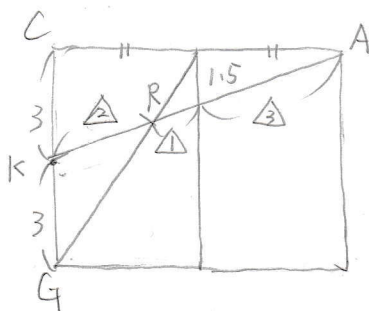


$$IP : PK = 4 : 3 \quad (\triangle BIP \text{ と } \triangle GKP)$$

$$JQ : QK = 2 : 3 \quad (\triangle DJQ \text{ と } \triangle GkQ)$$

左図より

$$KR : RA = 2 : 4 = 1 : 2$$



$$18 \times \frac{1 \times 3}{3 \times 5} = \frac{18}{5}$$

$$18 \times \frac{3 \times 1}{7 \times 3} = \frac{18}{7}$$

$$\frac{18}{7} + \frac{18}{5} = \frac{90 + 126}{35} = \frac{216}{35}$$

$$\underline{\underline{\frac{216}{35} \text{ cm}^3}}$$