

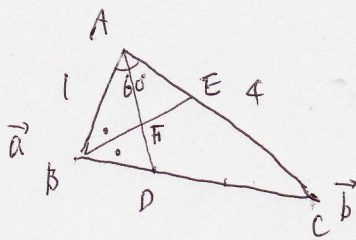


AC=4ABで∠A = 60°なる三角形ABCがある。CBを2:1に内分する点をD、∠Bの2等分線がACと交わる点をEとし、ADとBEとの交点をFとする。点Aに関するB、Cの位置ベクトルを \vec{a}, \vec{b} として、次のそれぞれのベクトルを \vec{a}, \vec{b} で表わせ。

- (1) \vec{AP} (ただし点Pは点Aと点Dを結ぶ直線上の動点である)
- (2) \vec{BE}
- (3) 点Fの点Aに関する位置ベクトル

[順天堂大]

(1)

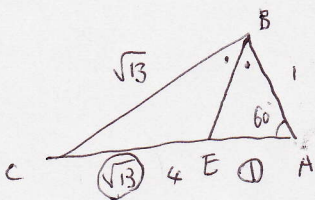


\vec{AP} は \vec{AD} 上にありとす

$$\vec{AD} = \frac{2}{3}\vec{a} + \frac{1}{3}\vec{b} \quad \therefore \vec{AP} = \frac{1}{3}(2\vec{a} + \vec{b}) \quad \text{とす}$$

$$\vec{AP} = k(2\vec{a} + \vec{b})$$

(2) 見出しの行に上図を参照すると



余弦定理より $BC = \sqrt{13}$ とす

$$\begin{aligned} x^2 &= 1 + 16 - 2 \cdot 4 \cdot 1 \cdot \cos 60^\circ \\ &= 17 - 4 \\ &= 13 \end{aligned} \quad BC = \sqrt{13}$$

∴ \vec{BE} は $\angle CBA$ の二等分線であるから $CE = EA = \frac{\sqrt{13}}{2}$

$$\therefore \vec{BE} = \frac{1}{\sqrt{13}+1} \vec{BC} + \frac{\sqrt{13}}{\sqrt{13}+1} \vec{BA}$$

∴ $\vec{BC} = \vec{b} - \vec{a}$, $\vec{BA} = -\vec{a}$ とす

$$\vec{BE} = \frac{1}{\sqrt{13}+1} (\vec{b} - \vec{a}) + \frac{\sqrt{13}}{\sqrt{13}+1} \cdot (-\vec{a})$$

$$\therefore \vec{BE} = -\vec{a} + \frac{1}{\sqrt{13}+1} \vec{b}$$

∴ $\vec{AF} = t(2\vec{a} + \vec{b})$ (1) 式
 とす $\vec{AF} = 2t\vec{a} + t\vec{b}$... (2)
 ∴ t と s の比較より

$$\begin{cases} 2t = 1-s \\ t = \frac{s}{\sqrt{13}+1} \end{cases}$$

$$s = 1 - 2t$$

$$t = \frac{1 - 2t}{\sqrt{13} + 1}$$

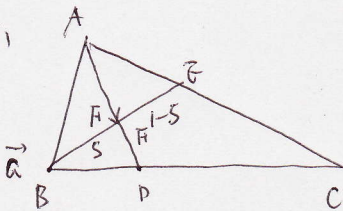
$$(\sqrt{13} + 3)t = 1$$

$$t = \frac{1}{\sqrt{13} + 3} = \frac{\sqrt{13} - 3}{4}$$

∴ t の値は $\frac{\sqrt{13} - 3}{4}$

$$\vec{AF} = \frac{\sqrt{13} - 3}{2} \vec{a} + \frac{\sqrt{13} - 3}{4} \vec{b}$$

(3)



$$\vec{AF} = \vec{a} + s\vec{BE}$$

$$= \vec{a} + s \left(-\vec{a} + \frac{1}{\sqrt{13}+1} \vec{b} \right)$$

$$= (1-s)\vec{a} + \frac{s}{\sqrt{13}+1} \vec{b}$$

